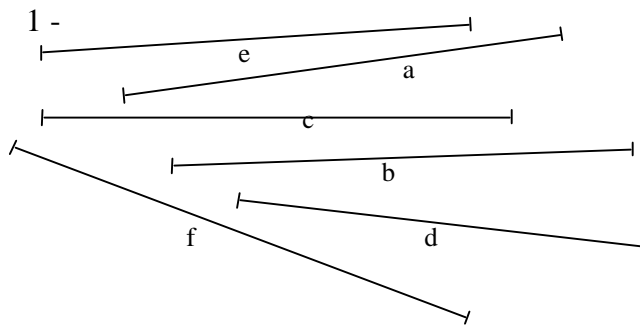
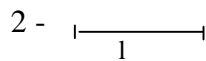


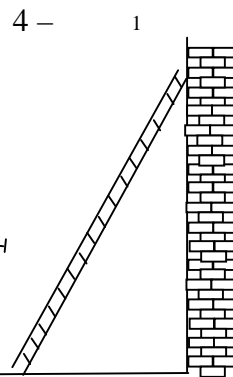
19 Mesurer des longueurs




Ordonne ces segments du plus court au plus long.



Tracer trois segments de longueur croissante : 3l, 4l et 5l.



Une échelle est dressée le long d'un mur. Indique sur un schéma la position de l'échelle lorsqu'on approche son pied du mur, lorsqu'on écarte son pied du mur.



3 - Lucien et Irmine ont choisi chacun leur unité de mesure.

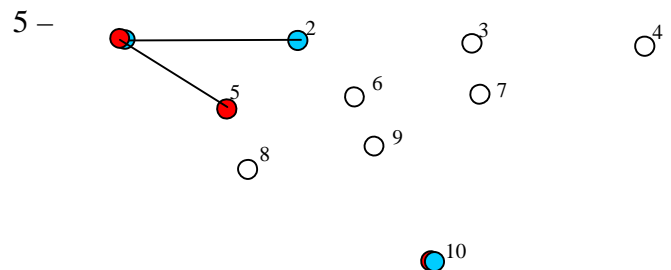
Lucien trouve que la largeur de la porte est 3 ; Irmine trouve que la largeur de la même porte est 5.

Lucien a trouvé que la hauteur de la porte est 12. Quelle mesure Irmine doit-elle trouver ?

Irmine a coupé une baguette de noisetier ; elle a trouvé que la mesure de la baguette était 7.

Lucien utilise son unité pour fabriquer une baguette qui mesure 7.

Qui a la baguette la plus longue ?



Partie du même nénuphar, la grenouille bleue et la grenouille rouge se retrouvent ensemble après avoir fait chacune cinq sauts de même longueur.

Indique l'ordre de chacun des points de chute.